

Фамилия, имя	Класс
--------------	-------

А. Иван Грозный	1. митрополит Филипп
Б. Ярослав Мудрый	2. патриарх Иов
В. Федор Иоаннович	3. митрополит Иларион
Г. Михаил Федорович	4. митрополит Петр
Д. Иван Калита	5. патриарх Филарет

События	Даты
А. Крещение Руси	1. 988 г.
Б. Битва на р. Воже	2. 1550 г.
В. Установление патриаршества на Руси	3. 1612 г.
Г. Принятие Судебника	4. 1378 г.
Д. Освобождение Москвы от поляков II ополчением	5. 1589 г.

Термины	Определения
А. Урок	1. община
Б. Посад	2. народное собрание
В. Слобода	3. норма сбора дани
Г. Вервь	4. торгово-ремесленная часть города
Д. Вече	5. район города, населенный ремесленниками одной специальности

А.	Хан Батый совершил два похода на Русь
Б.	Строительство Белокаменного Кремля в Москве велось в период правления Дмитрия Донского
В.	Новгород и Тверь были присоединены к Москве во 2 половине XIV в.
Г.	Основное отличие стрельцов в том, что они были вооружены холодным оружием: луками и стрелами.
Д.	Василий III – отец Ивана Грозного
Е.	Со смертью царевича Дмитрия присеклась династия Рюриковичей
Ж.	С именем Юрия Долгорукова связано первое упоминание о Москве
З.	Город Нижний Новгород проходит через путь «из варяг в греки»
И.	Сказание о Мамаевом побоище повествует о событиях Куликовской битвы
К.	Основателем книгопечатания в России считают Ивана Пересветова

[illegible]

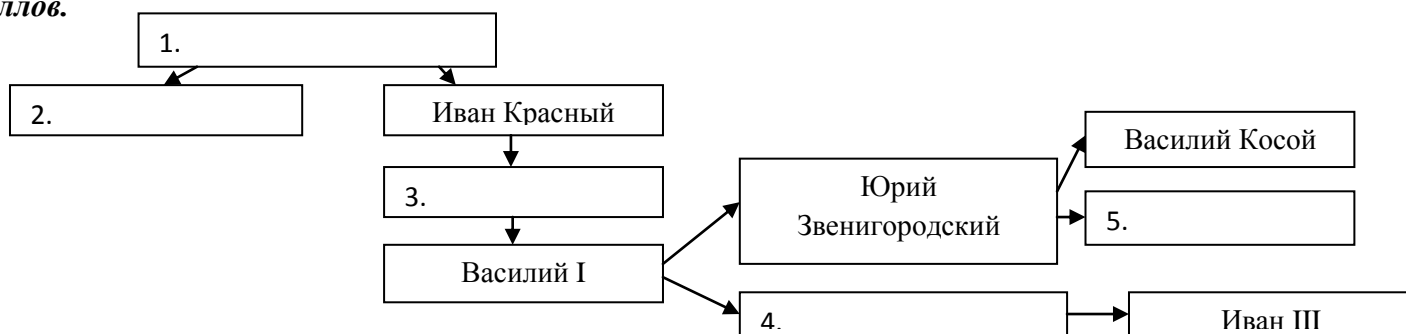
5. Что объединяет данные ряды. По 1 баллу за каждый правильный ответ. **Всего 5 баллов.**

- А. Юрий Звенигородский, Дмитрий Шемяка, Василий Темный, Василий Косой
 Б. подсека, перелог, двуполье, трехполье.
 В. скань, зернь, чернь, филигрань
 Г. 1497, 1550, 1581, 1597 гг.
 Д. Золотые ворота, Покрова на Нерли, Успенский собор, Дмитриевский собор

Ответ:

- А. _____
 Б. _____
 В. _____
 Г. _____
 Д. _____

6. Заполните пропуски в генеологической схеме. По 1 баллу за каждый правильный ответ. **Всего 5 баллов.**



7. Выберите из предложенного перечня одежду для мужчин и для женщин. По 1 баллу за каждый правильный ответ. **Всего 10 баллов.**

- | | |
|-----------|-------------|
| 1. Кафтан | 6. Сарафан |
| 2. Летник | 7. Рубаха |
| 3. Понёва | 8. Душегрея |
| 4. Порты | 9. Зипун |
| 5. Шушун | 10. Убрус |

Мужская	Женская

8. Определите, кто изображен на портрете, поставьте их в последовательности правления. По 1 баллу за каждый правильный ответ названной личности и 1 балл за правильную последовательность. **Всего 5 баллов.**



А.



Б.




В.



Г.

- А. _____
 Б. _____
 В. _____
 Г. _____
 Последовательность _____

9. Определите, какой памятник архитектуры изображен, поставьте их в последовательности возникновения. По 1 баллу за каждый правильный ответ названного памятника и 1 балл за правильную последовательность. **Всего 5 баллов.**




А.



Б.



В.



Г.

А. _____
 Б. _____
 В. _____
 Г. _____
 Последовательность _____



10. Изучите карту. Ответьте на вопросы к ней. По 1 баллу за каждый правильный ответ. **Всего 5 баллов.**

1. Походы какого князя изображены на карте? _____
2. В каком веке они происходили? _____
3. Какое государство в результате этих походов прекратило свое существование? _____
4. Как предупреждал князь, когда шел на неприятеля? _____
5. В какой город князь хотел перенести столицу Древнерусского государства? _____

11. Прочитайте документ и ответьте на вопросы к нему. **Всего за задание 10 баллов**

Божием попущением за грехи наши ордынский князь _____ собрал силу великую, всю орду, и идёт на Русскую землю; и были все люди страхом великим охвачены. Князь же великий, скипетр Русской земли державший, пришёл к святому Сергию, потому что великую веру имел в старца, и спросил его, прикажет ли святой ему против безбожных выступить: ведь он знал, что Сергей — муж добродетельный и даром пророческим обладает. Святой же, когда услышал об этом от великого князя, благословил его, молитвой вооружил и сказал: «Следует тебе, господин, заботиться о порученном тебе Богом славном христианском стаде. Иди против безбожных, и, если Бог поможет тебе, ты победишь и невредимым в своё отечество с великой честью вернёшься».

А. Укажите год, когда произошли описываемые события. Назовите русского и ордынского князей, о которых идет речь в тексте. _____

(3 балла)

Б. О каком Сергии идет речь в тексте? Чем он известен в истории Руси? _____

(2 балла)

В. Какие предсказания, касающиеся исхода битвы и судьбы русского князя, согласно тексту, сделал Сергей? Назовите два предсказания. _____

(2 балла)

Г. Как Вологодский край связан с описываемыми в тексте событиями? _____

(3 балла)

ВСЕГО ЗА ОЛИМПИАДУ 70 БАЛЛОВ